








# Musicalização Infantil - NÍVEL 2

Método Elaborado pela professora Eliane Cristina da Silva Marques

## VALORES DAS FIGURAS POSITIVAS E NEGATIVAS

VOCÊ SABIA QUE CADA FIGURA POSSUE UM SÍMBOLO NÚMÉRICO QUE A REPRESENTA?

VAMOS MEMORIZAR:

|   |   |   |   |   |   |   |
|---|---|---|---|---|---|---|
| 1   | 2   | 4   | 8   | 16  | 32  | 64  |
|  |  |  |  |  |  |  |

COLOQUE A FIGURA EM FRENTE AO NÚMERO QUE A REPRESENTA:

- A) 32 = \_\_\_\_\_
- B) 4 = \_\_\_\_\_
- C) 16 = \_\_\_\_\_
- D) 64 = \_\_\_\_\_
- E) 2 = \_\_\_\_\_
- F) 1 = \_\_\_\_\_
- G) 8 = \_\_\_\_\_

**VAMOS RECORDAR?**

DESENHE AS 7 FIGURAS POSITIVAS E NEGATIVAS

---

COMO SÃO OS NOMES DAS FIGURAS?

---

---

QUAL A DIFERENÇA ENTRE FIGURAS POSITIVAS E FIGURAS NEGATIVAS?




























---

---

---

ALÉM DE CADA FIGURA TER UM NÚMERO QUE A REPRESENTA, AS FIGURAS POSSUEM TEMPOS DE DURAÇÃO DIFERENTES UMAS DAS OUTRAS. MAS AS FIGURAS POSITIVAS E NEGATIVAS, COM O MESMO NOME, POSSUEM O MESMO VALOR.

O QUADRO ABAIXO MOSTRA A PROPORÇÃO DE TEMPO QUE TEM CADA FIGURA. EM RELAÇÃO A DE MAIOR VALOR. OBSERVE:

|              |   |   |   |   |  |  |  |
|--------------|---|---|---|---|--|--|--|
| Semibreve    |  =     | 2      | 4      | 8      | 16    | 32    | 64  |
| Minima       |  =   | 2    | 4    | 8   | 16  | 32  |  |
| Seminima     |  =   | 2    | 4   | 8  | 16  |  |  |
| Colcheia     |  =   | 2    | 4  | 8  |  |  |  |
| Semicolcheia |  =   | 2  | 4  |   |  |  |  |
| Fusa         |  = | 2  |   |   |  |  |  |

NO QUADRO ACIMA EXISTEM FIGURAS NEGATIVAS?

---

O QUE INDICAM AS FIGURAS NEGATIVAS?

---